










SEMANA DEL 28 AL 31 DE MAYO DEL 2018

MATERIA	LUNES 28	MARTES 29	MIÉRCOLES 30	JUEVES 31
ESPAÑOL 	Pág. 35 Responder las 3 preguntas en hojas adicionales.	Pág. 53	Pág. 54	<p><b>SUSPENSIÓN DE LABORES.</b></p>  <p><b>CURSO DE ACTUALIZACIÓN</b></p>
MATEMÁTICAS 	Págs. 300-301	Pág. 306 Ejercicio 11 al 17.	Imprimir, responder y pegar el ejercicio de números romanos ANEXO.	
INGLÉS 	Solve page 86	Solve page 87	Study Spelling Bee Words	
CIENCIAS NATURALES 		Traer una imagen pequeña de la pirámide de la Luna y La Diosa de la Luna.		
FORMACIÓN CÍVICA Y ÉTICA 	Escribe en hojas adicionales 5 ejemplos de actividades donde puedas participar e ilustra con recortes.			
Estado de México: La entidad donde vivo. 			Imprimir, responder y pegar cuadro de los medios sociales ANEXO en cuaderno blanco.	
ARTES 				
GASTRONOMIA 	<p><b>CLASE PRÁCTICA: 30 DE MAYO.</b></p> <p>Para descargar las recetas:  <a href="https://1drv.ms/f/s!Ao4Whlk52AzsjFXxYFVg1By4OK2v">https://1drv.ms/f/s!Ao4Whlk52AzsjFXxYFVg1By4OK2v</a></p>			

# TAREA: MIÉRCOLES 30 DE MAYO MATEMÁTICAS.

## LOS NÚMEROS ROMANOS

Escribir con número romanos:

7 =	11 =	22 =	34 =	45 =	56 =
67 =	78 =	89 =	91 =	100 =	8 =
19 =	26 =	37 =	48 =	51 =	63 =

Escribe los números romanos del 75 al 100:

LXXV, \_\_\_\_\_  
\_\_\_\_\_  
\_\_\_\_\_

**TAREA: MIÉRCOLES 30 DE MAYO ENTIDAD DONDE VIVO.**

Escribe 4 características de cada uno de los aspectos mencionados en el cuadro

<b>Diferencias entre medios sociales.</b>		
<b>Aspectos</b>	<b>Medio Rural (Campo)</b>	<b>Medio Urbano (Ciudad)</b>
Actividades		
Alimentación		
Vestimenta		

anterior sobre el medio rural y urbano.