





MATERIA	LUNES	MARTES	MIERCOLES	JUEVES
ESPAÑOL 	Estudiar la guía para el Jeopardy	Estudiar la guía para el Jeopardy	Estudiar la guía para el Jeopardy	Estudiar la guía para el Jeopardy
MATEMÁTICAS 				
INGLÉS 	Paste a picture of Alexander Graham Bell and his great invention	Illustrate the imperative sentences: <ul style="list-style-type: none"> <li>• Drink your milk</li> <li>• Wash your hands</li> <li>• Read a book</li> </ul>	Draw and color 5 simple machines	
EXP. DE LA NATURALEZA 				
FORMACIÓN CÍVICA Y ÉTICA 				
GASTRONOMIA 	<b>ARTES</b>  Traer dos hojas de papel adherible tamaño carta y una caja de crayolas chica (4 o 6 colores)			

PREGUNTAS OPEN HOUSE  
ESPAÑOL 1º

**1.- Antónimo de limpio.**

- a) Sucio.
- b) Largo.
- c) Lleno.
- d) Iluminado.

**2.- Es un verbo en futuro.**

- a) Comí.
- b) Estudié.
- c) Estudiaré.
- d) Nadamos

**3.- Palabra en femenino.**

- a) Muñeco.
- b) Doctor.
- c) Abuela.
- d) Arete.

**4.- En el enunciado Mi mamá plancha la ropa, ¿Cuál es el verbo?**

- a) La.
- b) Plancha.
- c) Ropa.
- d) Mamá.

**5.- Palabra que rima con quietas.**

- a) Mesa.
- b) Solito.
- c) Tomates.
- d) Despiertas.

**6.- Es un sustantivo propio**

- a) Gabriel.
- b) Chocolate.
- c) Leche.
- d) Pelota.

**7.- Es una palabra larga.**

- a) Dos
- b) Refrigerador.
- c) Luz.
- d) Sol.

**8.- ¿Cuál es el verbo en el enunciado “Los grillos nunca duermen”**

- a) Los
- b) Grillos
- c) Nunca.
- d) Duermen.

**9.- Es una palabra en plural.**

- a) Mesa.
- b) Dulces.
- c) Veracruz.
- d) Pedro.

**10.- Palabra en singular.**

- a) Lápiz.
- b) Pelotitas.
- c) Pelotas.
- d) Lápices.

**11.- Es un enunciado exclamativo**

- a) ¿Me quieres?
- b) Ve por las tortillas.
- c) ¡Qué miedo!
- d) No voy a tu fiesta.

**12.- Es una palabra corta.**

- a) Banqueta.
- b) Quesadilla.
- c) Alacrán.
- d) Sal.

**13.- Es un enunciado interrogativo.**

- a) ¿Me compras un helado?
- b) No me regañes.
- c) ¡Te amo!
- d) Te espero en la escuela.

**14.- Sinónimo de médico.**

- a) Enfermero.
- b) Ingeniero.
- c) Licenciado.
- d) Doctor.

**15.- Antónimo de bueno.**

- a) Malo.
- b) Guapo.
- c) Alto.
- d) Bajo.

**16.- En qué cuento aparecen la abuelita y el lobo feroz**

- b) La Sirenita.
- c) Caperucita Roja.
- d) La Bella Durmiente.

**17.- Ordena las letras y menciona la palabra que se forma.**

**b e c u t a**

- a) Escoba.
- b) Antena
- c) Jabón.
- d) Cubeta.

**18.- Adivina que es.**

**Tiene ojos y no ve,**

**Tiene corona y no es rey**

**Tiene escamas y no es pez.**

- a) Piña.
- b) Elote.
- c) Chile.
- d) Pera.

**19.- Palabra en masculino.**

- a) Casa.
- b) Pala.
- c) Cajeta.
- d) Cocinero.

**20.- ¿Cómo se separa en sílabas la palabra “chocolate”?**

- a) cho – co – la – te.
- b) Choco – la – te.
- c) Choco – late.
- d) Cho – co – late.

## MATEMÁTICAS 1º

1.- ¿Cuál será el resultado de  $6 + 3 + 2 = ?$

- a) 13
- b) 20
- c) 11
- d) 16

2.- ¿Cómo se escribe el número quinientos nueve?

- a) 509
- b) 59
- c) 5 009
- d) 519

3.- ¿Cuál será el resultado de  $9 - 5 + 1 = ?$

- a) 10
- b) 18
- c) 15
- d) 5

4.- ¿Cuántos lados iguales tiene un cuadrado?

- a) 2
- b) 6
- c) 4
- d) 1

5.- Patricio compró un globo que le costó 25 pesos, si pagó con monedas de 5 pesos ¿Cuántas monedas entregó?

- a) 3
- b) 5
- c) 2
- d) 4

6.- ¿Cuánto es  $2 \times 3 + 1$ ?

- a) 7
- b) 9
- c) 6
- d) 5

7.- ¿Cómo se escribe el número 100 en números romanos?

- a) LX
- b) LXII
- c) XL
- d) C

8.- ¿Cuántas caras tiene un cubo?

- a) 4
- b) 6
- c) 8
- d) 10

9.- Luis pesa 22 kilos, Pedro pesa 32 kilos, Karla pesa 23 kilos y Sofía pesa 20 kilos ¿Quién pesa más?

- a) Pedro
- b) Karla
- c) Luis
- d) Sofía

10.- Es el doble de 10.

- a) 12
- b) 4
- c) 5
- d) 20

11.- Es el sucesor de 39.

- a) 38
- b) 40
- c) 50
- d) 100

12.- Es el antecesor de 100

- a) 101
- b) 89
- c) 99
- d) 105

13.- Es el segundo mes del año.

- a) Marzo
- b) Diciembre
- c) Febrero
- d) Junio

14.- El día anterior al miércoles es el:

- a) Lunes
- b) Jueves
- c) Domingo
- d) Martes

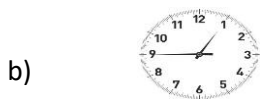
15.- Javier tiene en su cartera un billete de 50 pesos y otro de 20 pesos. ¿Qué cantidad de dinero tiene Javier?

- a) 70 pesos
- b) 100 pesos
- c) 30 pesos
- d) 80 pesos

16.- Figura que tiene tres lados.

- a) Cuadrado.
- b) Rectángulo.
- c) Círculo.
- d) Triángulo.

17.- Reloj que marca las ocho en punto



18.- ¿Qué pesa menos?

- a) Una manzana
- b) Un limón
- c) Una sandía
- d) Un mango

**19.- Es la mitad de 100**

- a) 50
- b) 25
- c) 12
- d) 10

**20.- Es el número 35 en romano.**

- a) XXV
- b) XVI
- c) XXXIV
- d) XXXV

## EXPLORACIÓN DE LA NATURALEZA Y SOCIEDAD 1º

**1- Sentido que nos permite saber si un alimento es salado, dulce, amargo o ácido.**

- a) Olfato
- b) Tacto
- c) Gusto
- d) Vista

**2.- Sentido que nos permite ver imágenes y colores.**

- a) Olfato
- b) Tacto
- c) Gusto
- d) Vista

**3.- Sentido que nos sirve para identificar sonidos.**

- a) Olfato
- b) Oído
- c) Gusto
- d) Vista

**4.- A través de este sentido podemos saber si un objeto es duro, liso o blando.**

- a) Olfato
- b) Tacto
- c) Gusto
- d) Vista

**5.- Sentido que nos permite identificar olores.**

- a) Olfato
- b) Tacto
- c) Gusto
- d) Vista

**6.- Una acción que afecta a la naturaleza es:**

- a) Desperdiciar el agua.
- b) Separar los desechos.
- c) Apagar la luz cuando no la uso.
- d) Cerrar la llave del agua cuando me lavo los dientes.

**7.- Puedo participar en el cuidado de la naturaleza al:**

- a) Proteger a los animales.
- b) Tirar desechos en la calle.
- c) Arrancar hojas a las plantas.
- d) Hacer fogatas en los campos y no apagarlas.

**8.- Son alimentos de origen animal**

- a) Cerezas y manzanas.
- d) Pan y tortillas.
- e) Leche y queso.
- f) Plátanos y mangos.

**9.- Órganos del sentido de la vista.**

- a) Oídos.
- b) Ojos.
- c) Manos.
- d) Dientes.

**10.- Órgano del sentido del olfato.**

- a) Lengua.
- b) Piel.
- c) Ojo.
- d) Nariz.

**11.- Órgano del sentido del tacto.**

- a) Lengua.
- b) Piel.
- c) Ojo.
- d) Nariz.

**12.- Animales que viven en un medio acuático.**

- a) Golondrina y paloma.
- b) Ballena y delfín.
- c) Gallina y guajolote.
- d) Perro y cerdo.

**13.- Es una fuente de luz y calor natural.**

- a) Lámpara.
- b) Luna.
- c) Sol.
- d) Foco.

**14.- Es una fuente de luz artificial.**

- a) Lámpara.
- b) Luna.
- c) Sol.
- d) Estrella.

**15.- Fecha en que inicia la primavera.**

- a) 30 de septiembre.
- b) 5 de mayo.
- c) 31 de diciembre.
- d) 21 de marzo.

**16.- ¿Qué se debe cuidar en la preparación de los alimentos?**

- a) Lavar y desinfectar frutas y verduras.
- b) Calentar mucho el aceite.
- c) Limpiar con un solo trapo.
- d) Ponerles mucha sal.

**17.- Son animales que viven en un medio terrestre.**

- a) Pez Vela, Tiburón.
- b) Delfín, Ballena
- c) Elefante, Lobo.
- d) Caballito de mar, Erizo.

**18.- Trabaja en el campo cultivando la tierra y es importante porque siembra y planta frutas y verduras para que las personas se alimenten.**

- a) Maestra.
- b) Policía.
- c) Campesino.
- d) Carpintero.

**19.- Es un derecho de los niños.**

- a) Tender la cama.
- b) Hacer lo que quiero.
- c) Ir a la escuela.
- d) Dormir todo el día.

**20.- Es un deber de los niños.**

- a) Lavarse los dientes tres veces al día.
- b) Tomar refresco to el día.
- c) Pelear con los compañeros.
- d) Ver televisión todas las tardes.

## FORMACIÓN CÍVICA Y ÉTICA 1º

**1.- Cómo puedes prevenir un accidente en casa?**

- a) Colocar cada cosa en su lugar.
- b) Utilizar envases para desconocidos.
- c) Dejar objetos regados.
- d) Destapar los envases de limpieza.

**2.- ¿Cuáles son las zonas de seguridad?**

- a) Lugares en los que puedes protegerte.
- b) Lugares en los que puedes hacerte daño.
- c) Debajo de un árbol.
- d) Lugares en los que puede ocurrir un accidente.

**3.- ¿Cómo se celebra la batalla del Cinco de Mayo?**

- a) Con representaciones y desfiles.
- b) Con fiestas y convivios.
- c) Con un vals.
- d) Cuidando la naturaleza.

**4.- ¿En qué batalla los franceses querían apoderarse del territorio mexicano?**

- a) Batalla de Morelos.
- b) Batalla de Puebla.
- c) Batalla de San Blas.
- d) Batalla de San Luis.

**5.- Los materiales con los que puede estar hecha una casa son:**

- a) Cristal, plástico y corcho.
- b) Unicel, tela y papel
- c) Adobe, ladrillo y cemento.
- d) Chapopote, pintura y aluminio.

**6.- El instrumento que marca la hora se llama:**

- a) Regla.
- b) Calendario.
- c) Metro.
- d) Reloj.



**7.- ¿Cuál es la importancia de los transportes?**

- a) Llevar productos de un lugar a otro.
- b) Contaminar el aire.
- c) Provocar tránsito.
- d) Guardarlos en casa.

**8.- Es un transporte terrestre.**

- a) Autobús.
- b) Helicóptero.
- c) Avión.
- d) Barco.

**9.- Es un transporte aéreo.**

- a) Autobús.
- b) Tren.
- c) Avión.
- d) Barco.

**10.- Es un transporte marítimo.**

- a) Autobús.
- b) Tren.
- c) Avión.
- d) Barco.

**11.- ¿Cuál es el significado del lema de Benito Juárez? “El respeto al derecho ajeno es la paz.”**

- a) Respetar a las demás personas.
- b) Tomar las cosas que no son nuestras.
- c) Hablar todos al mismo tiempo.
- d) Compartir objetos con los compañeros.

**12.- Cura que luchó por la desaparición de la esclavitud.**

- a) Miguel Hidalgo y Costilla.
- b) Francisco I. Madero.
- c) Venustiano Carranza.
- d) Enrique Peña Nieto.

**13.- Fecha en que celebramos la independencia de México.**

- a) 30 de abril
- b) 10 de mayo.
- c) 16 de septiembre.
- d) 5 de mayo.

**14.- Son los Símbolos Patrios.**

- a) Himno, Escudo y Bandera.
- b) Territorio, Capital y Gobierno.
- c) Escudo, Edo. De México y Diputados.
- d) Bandera, Territorio y Presidente.

**15.- Indica la cantidad de años que hemos vivido.**

- a) Estatura.
- b) Peso.
- c) Edad.
- d) Alimentación.

**16.- Mes en que festejamos el día del niño y de la niña.**

- a) Enero
- b) Febrero
- c) Marzo
- d) Abril

**17.- Se dedica a enseñar, trabaja en la escuela y es importante porque ayuda a los estudiantes a aprender.**

- a) Maestra.
- b) Policía.
- c) Campesino.
- d) Carpintero.

**18.- Trabaja en los mares y lagos, es importante porque obtiene pescados y mariscos para que las personas se alimenten.**

- a) Maestra.
- b) Policía.
- c) Campesino.
- d) Pescador.

**19.- Trabaja la madera y es importante porque elabora objetos útiles para las personas, como muebles y puertas.**

- a) Maestra.
- b) Policía.
- c) Campesino.
- d) Carpintero.

**20.- Cuida a los ciudadanos, trabaja en la vía pública y es importante porque brinda seguridad.**

- a) Maestra.
- b) Policía.
- c) Campesino.
- d) Carpintero.